


# Les billes

Léa a 9 billes. Milo lui donne 6 billes.




Combien Léa a-t-elle de billes ?

1

# Les billes

Léa a 9 billes. Milo lui donne 6 billes.




Combien Léa a-t-elle de billes ?

1

# Les billes

Léa a 9 billes. Milo lui donne 6 billes.




Combien Léa a-t-elle de billes ?

1

# Les billes

Léa a 9 billes. Milo lui donne 6 billes.




Combien Léa a-t-elle de billes ?

1

# Les billes

Léa a 9 billes. Milo lui donne 6 billes.




Combien Léa a-t-elle de billes ?

1

# Les billes

Léa a 9 billes. Milo lui donne 6 billes.




Combien Léa a-t-elle de billes ?

1

# Les billes

Léa a 9 billes. Milo lui donne 6 billes.




Combien Léa a-t-elle de billes ?

1

# Les billes

Léa a 9 billes. Milo lui donne 6 billes.




Combien Léa a-t-elle de billes ?

1

# Les billes

Léa a 9 billes. Milo lui donne 10 billes.

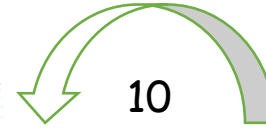


2

Combien Léa a-t-elle de billes ?

# Les billes

Léa a 9 billes. Milo lui donne 10 billes.




2

Combien Léa a-t-elle de billes ?

# Les billes

Léa a 9 billes. Milo lui donne 10 billes.




2

Combien Léa a-t-elle de billes ?

# Les billes

Léa a 9 billes. Milo lui donne 10 billes.




2

Combien Léa a-t-elle de billes ?

# Les billes

Léa a 9 billes. Milo lui donne 10 billes.




2

Combien Léa a-t-elle de billes ?

# Les billes

Léa a 9 billes. Milo lui donne 10 billes.




2

Combien Léa a-t-elle de billes ?

# Les billes

Léa a 9 billes. Milo lui donne 10 billes.




2

Combien Léa a-t-elle de billes ?

# Les billes

Léa a 9 billes. Milo lui donne 10 billes.



2

Combien Léa a-t-elle de billes ?

# Les billes

Léa a 12 billes. Milo lui donne 6 billes.

3



Combien Léa a-t-elle de billes ?

# Les billes

Léa a 12 billes. Milo lui donne 6 billes.

3



Combien Léa a-t-elle de billes ?

# Les billes

Léa a 12 billes. Milo lui donne 6 billes.

3



Combien Léa a-t-elle de billes ?

# Les billes

Léa a 12 billes. Milo lui donne 6 billes.

3



Combien Léa a-t-elle de billes ?

# Les billes

Léa a 12 billes. Milo lui donne 6 billes.

3



Combien Léa a-t-elle de billes ?

# Les billes

Léa a 12 billes. Milo lui donne 6 billes.

3



Combien Léa a-t-elle de billes ?

# Les billes

Léa a 12 billes. Milo lui donne 6 billes.

3



Combien Léa a-t-elle de billes ?

# Les billes

Léa a 12 billes. Milo lui donne 6 billes.

3



Combien Léa a-t-elle de billes ?

# Les billes

Léa a 11 billes. Milo lui donne 4 billes.

4



Combien Léa a-t-elle de billes ?

# Les billes

Léa a 11 billes. Milo lui donne 4 billes.

4



Combien Léa a-t-elle de billes ?

# Les billes

Léa a 11 billes. Milo lui donne 4 billes.

4




Combien Léa a-t-elle de billes ?

# Les billes

Léa a 11 billes. Milo lui donne 4 billes.

4



Combien Léa a-t-elle de billes ?

# Les billes

Léa a 11 billes. Milo lui donne 4 billes.

4



Combien Léa a-t-elle de billes ?

# Les billes

Léa a 11 billes. Milo lui donne 4 billes.

4



Combien Léa a-t-elle de billes ?

# Les billes

Léa a 11 billes. Milo lui donne 4 billes.

4



Combien Léa a-t-elle de billes ?

# Les billes

Léa a 11 billes. Milo lui donne 4 billes.

4



Combien Léa a-t-elle de billes ?